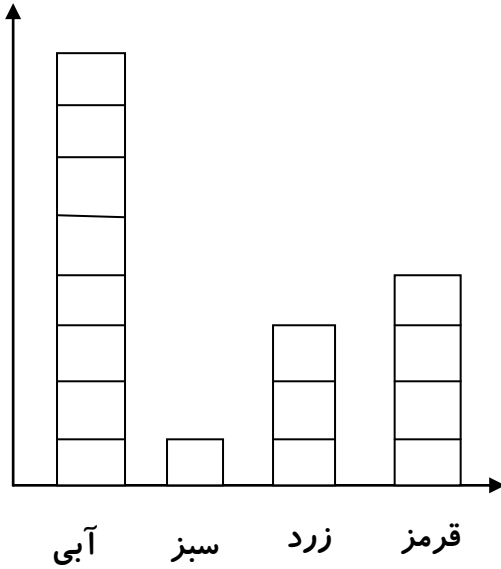




# سرک دانش

۱- با نگاه کردن به نمودار ستونی زیر درباره ی تعداد تپله های رنگی کدام گزینه درست است ؟



الف) آبی ( ۸ ) - سبز ( ۱ ) - زرد ( ۳ ) - قرمز ( ۴ )

ب) آبی ( ۷ ) - سبز ( ۱ ) - زرد ( ۳ ) - قرمز ( ۴ )

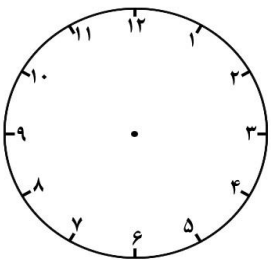
ج) آبی ( ۶ ) - سبز ( ۱ ) - زرد ( ۴ ) - قرمز ( ۴ )

د) آبی ( ۸ ) - سبز ( ۲ ) - زرد ( ۳ ) - قرمز ( ۴ )

۲- لیلا ۷ شکلات دارد خواهرش ۶ تا دیگر به او می دهد ، تعداد کل شکلات های لیلا زوج است یا فرد ؟ چرا ؟

۳- چهار دسته ی هفت تایی را که همان ۴ هفت تایی باشد را با شکل دلخواه رسم کنید .

۴- زنگ تفریح در ساعت ۱۰ صبح زده می شود . بچه ها باید ۱۵ دقیقه ی بعد ( یک ربع بعد ) سر کلاس باشند .




الف) یعنی ساعت چند باید سر کلاس باشند ؟ .....

ب) آن را روی ساعت نشان بده .

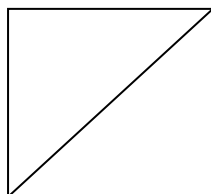
ج) زنگ تفریح را روی ساعت با رنگ کردن نشان بده .

د) این مدت چه کسری از یک ساعت است ؟ ..... قسمت از ..... قسمت مساوی


۵- کدام یک از شکل های زیر به دو قسمت مساوی تقسیم شده است ؟




( د )



( ج )



( ب )



( الف )